

	1ねん くみ ばん	しめい	
--	--------------	-----	--

☆ なんじでしょうか。

(1)



7 じ

(2)



3 じ

☆ なんじなんぷんでしょうか。

(3)



1 じ 25 ぷん

(4)



4 じ 10 ぷん



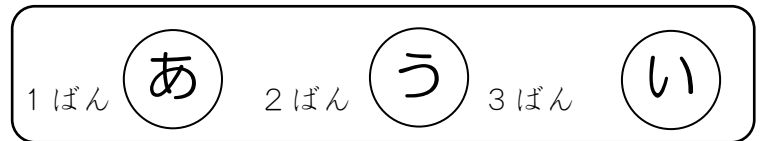
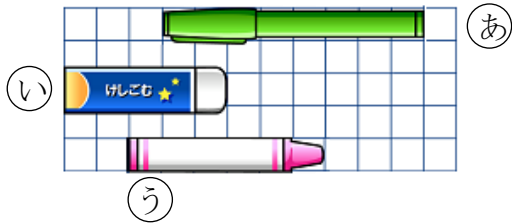
うらへつづきます。

☆ つぎの もんだいに こたえましょう。

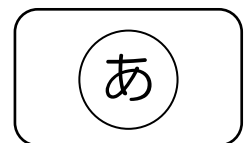

(5) どちらがながいでしょうか。



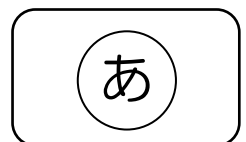
(6) ながい じゅんに いいましょう。



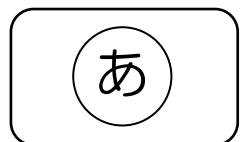
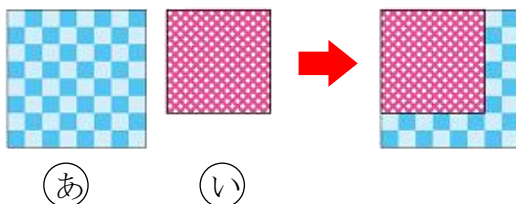
(7) ^{みず}水は どちらに おおく 入るでしょうか。



(8) ^{みず}水は どちらが おおいでしょうか。



(9) どちらが ひろいでしょうか。



(10) どちらが ひろく ぬったでしょうか。

